

绝密★启用前

2023 年黄河水利职业技术学院单独招生考试 职业技能测试试卷

注意事项：

1. 本试卷共 8 页，满分 300 分。考试时间为 90 分钟。
2. 答题前考生务必将自己的姓名、准考证号填写在试卷和答题纸上。
3. 必须使用同一种颜色(蓝色、黑色或蓝黑色)的钢笔或中性笔答题。
4. 必须将答案写在答题纸上，否则无效。
5. 本试卷选择题均为单项选择。
6. 不准在答题纸上作任何暗示性标记，否则以作弊处理。

一、基本常识测试(每小题 4 分，共 80 分)

1. 南水北调中线工程从丹江口水库引水，受水区不包括（ ）省。
A. 北京 B. 天津 C. 河南 D. 山东
2. 我国的第一大河长江，全长 6397km，干流流经 11 个省、自治区、直辖市，注入（ ）。
A. 渤海 B. 南海 C. 东海 D. 黄海
3. 交通出行需购买火车票，以下最可靠的购票方式是（ ）。
A. 在微信群里求购 B. 找黄牛代购
C. 在代购网上购买 D. 到 12306 网站或火车站售票窗口购买
4. 在大街上突然遭遇地震，应抱头迅速到（ ）。
A. 建筑物内 B. 高楼附近 C. 立交桥下 D. 空旷地
5. 感冒时，常常会感到呼吸困难，是因为（ ）。
A. 病毒过多，鼻腔堵塞 B. 鼻腔粘膜充血肿胀，堵塞鼻腔
C. 病毒侵犯，味觉失灵 D. 病菌阻挡，空气通过鼻腔量少
6. 歼-20 是我国先进的隐形战斗机，之所以隐形是因为（ ）。
A. 肉眼难以发现它 B. 它的颜色与天空颜色相近
C. 雷达难以发现它 D. 它可以随时根据周围环境改变颜色

7. 《史记·夏本纪》记载：“劳神焦思，居外十三年，过家门而不入”，终于治平了洪水。这位传说中的治水英雄是（ ）。

- A. 尧 B. 舜 C. 禹 D. 蚩尤

8. 能证明新疆自古以来是中国领土不可分割一部分的史实是（ ）。

- A. 丝绸之路的开通 B. 北击匈奴
C. 西域都护的设置 D. 甘英出使大秦

9. 中国海拔最高的城市是（ ）。

- A. 昆明 B. 西宁 C. 拉萨 D. 贵阳

10. 世界地球日是每年的（ ）。

- A. 4月22日 B. 6月1日 C. 2月14日 D. 5月1日

11. 下列我们日常生活用品属于发酵工程产品的是（ ）。

- A. 农民自酿的白酒 B. 绝大多数农用抗生素
C. 味精 D. 维生素B2

12. 近代中国的社会性质是（ ）。

- A. 封建社会 B. 半殖民地半封建社会
C. 殖民地社会 D. 资本主义社会

13. 我国的政体是（ ）。

- A. 人民民主专政 B. 人民代表大会制度
C. “一国两制” D. 社会主义制度

14. 古语有云：“敬人者，人恒敬之”。这句话说明（ ）。

- A. 尊重是相互的 B. 要尊重他人的人格尊严
C. 尊重他人是一种美德 D. 尊重他人，他人一定会尊重自己

15. 下列不属于采集信息工具的是（ ）。

- A. 照相机 B. 扫描仪 C. 电视机 D. 摄像机

16. 要实现键盘中、英文输入状态切换可以同时按（ ）。

- A. Ctrl+Shift B. Ctrl+Alt
C. Ctrl+空格键 D. Shift+Alt

17. 纳米是（ ）。

- A. 一种粒子 B. 一种谷物 C. 长度单位 D. 时间单位

18. 下列中暑处置方式错误的是（ ）。

- A. 冷敷
- B. 及时就医
- C. 多喝水
- D. 将患者转移到阴凉通风处

19. 绿色植物在暗室中不能消耗（ ）。

- A. ATP
- B. CO_2
- C. O_2
- D. CH_2O

20. 交通信号灯由不同颜色和不同亮度的灯组成，其颜色和亮度必须符合相关技术规范，关于交通信号灯，以下说法不正确的是（ ）。

- A. 方便行人、车辆等与交通信号间信息互动
- B. 符合审美原则
- C. 符合信号灯设计的技术规范
- D. 实现道路照明

二、分析推理能力测试（每小题 5 分，共 50 分）

21. 如果“预杉”对应“须杼”，那么“9437”对应（ ）。

- A. 7439
- B. 3479
- C. 7394
- D. 4739

22. 老王两年前投资的一套艺术品市价上涨了 50%，为尽快出手，老王将该艺术品按市价的八折出售，扣除成交价 5% 的交易费用后，发现与买进时相比赚了 7 万元。问老王买进该艺术品花了（ ）万元？

- A. 42
- B. 50
- C. 84
- D. 100

23. 找规律，在“？”处填入适当的数（ ）。

2	5	10	17	?
---	---	----	----	---

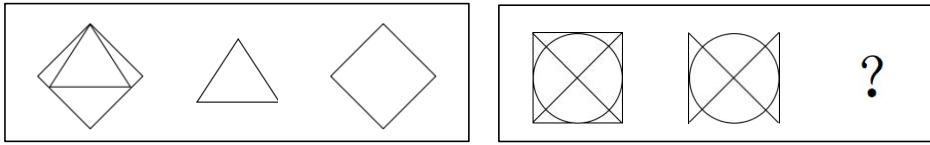
- A. 22
- B. 24
- C. 26
- D. 27





24. 找规律，在“？”处填入适当的数（ ）。

11	18	27	38	?	66
----	----	----	----	---	----

- A. 43
- B. 45
- C. 51
- D. 53

25. 根据给出的图形，选择最适合取代“？”号的图形是（ ）。



- A.  B.  C.  D. 

26. 一位身穿警服的人从某公安局走出来。根据这一陈述，可做出的断定是（ ）。

- A. 这个人一定是该公安局的警察
 B. 这个人可能是该公安局的警察
 C. 这个人一定不是该公安局的警察
 D. 这个人是来该公安局办事的警察

27. 人才开发是指将人的知识、才干作为资源加以发掘、培养，以便促进人才本身素质的提高和更加合理的使用。

根据以上定义，下列属于人才开发的是（ ）。

- A. 学校发布了本年度的人员招聘公告
 B. 公司组织新入职员工学习工作纪律
 C. 小刘被总公司从 A 分公司调到 B 分公司
 D. 张经理为公司员工组织职业能力培训

28. 熬夜：萎靡不振：养精蓄锐（ ）。

- A. 跟风：鹦鹉学舌：真知灼见 B. 盲动：一败涂地：重启炉灶
 C. 传神：生动逼真：洛阳纸贵 D. 超速：风驰电掣：按部就班

29. 甲计划 12:15 出发以 45km/h 的速度开车前往 A 市，并于 15:45 抵达。但他因故延迟到 13:05 才出发并于 15:35 抵达。他实际的行驶速度为（ ）。

- A. 63 B. 60 C. 57 D. 54

30. 如果小王是学生会成员，他一定是三年级学生。这一断定是基于以

下哪项判断作为前提的（ ）。

- A. 只有小王才能被选入学生会
- B. 只有三年级学生才有资格被选入学生会
- C. 入选学生会成员中必须有三年级学生
- D. 三年级学生也可能不被选入学生会

三、理解能力测试（每小题 6 分，共 30 分）

31. 目前，在食品保鲜方面有一些新技术。比较普遍使用的是将矿物浓缩液渗进吸水纸袋中，再用这种纸袋包装蔬菜和水果。在运输过程中，蔬菜和水果可以从矿物浓缩液中得到营养补给。与此同时，科技人员还研制出一种高纯度磷酸钙与聚乙烯混合而成的薄膜。实践证明，磷酸钙能吸收乙烯和二氧化碳气体，抑制叶绿素的分解，起到保鲜的作用。另外，还有一种用于储藏水果蔬菜的气调保鲜技术。通过调节果品蔬菜储藏室的环境温度、湿度、空气中氧含量和二氧化碳含量等四个参数，延长储藏期并保持果蔬的良好品质。

这段文字介绍了三种新型食品保鲜技术，理解有误的一项是（ ）。

- A. 用渗透了矿物浓缩液的吸水纸袋保鲜
- B. 用混合了高纯度磷酸钙与聚乙烯的薄膜保鲜
- C. 通过分解叶绿素进行保鲜
- D. 气调保鲜

32. 为了争取将来的美好而牺牲了的人，都是一尊石质的雕像。（尤利乌斯·伏契克）

对上面这句名言主要意思的提炼，最准确的一项是（ ）。

- A. 为了获得将来的美好，人就必须要要有奉献牺牲精神。
- B. 为了追求将来的美好而牺牲了自我，都是悲壮的结局。
- C. 为了将来的美好而奉献牺牲的人，一定有着坚韧的品质。
- D. 牺牲自我而追求将来的美好的人，一定会永远被人景仰。

33. 某医院所有的医生都是男性，所有的护士都是女性，所有的已婚者都是护士，医务室主任尚未结婚。由此我们可以推出（ ）。

- A. 医务室主任是女性 B. 已婚者中有男性
C. 护士中可能有未婚者 D. 医生中有的已经结婚

34. 中华民族一直以其强烈的责任意识享誉世界，在建立市场经济体制的新的历史时期，尤其需要_____人们责任意识，这既是构建社会主义和谐社会的必然_____，也是时代的呼唤。

填入画横线部分最恰当的一项是（ ）。

- A. 增强 要求 B. 提高 结果
C. 加强 需要 D. 提升 途径

35. 现在电影创作对热门题材大肆重复利用，一个题材有市场，多方人马就一拥而上，这不是健康的电影生态。相比之下，对民族文化的挖掘不多见，比如以传统节日端午节、中秋节等为背景的开发，以及对昆曲、黄梅戏等民族艺术元素的利用都很少。一旦用心去挖掘这些中华民族财富，呈现在创作者面前的就是一个精彩纷呈的艺术宝库，国产电影也将迎来一个百花齐放的春天。对这段文字的主旨最准确的概括是（ ）。

- A. 国产电影不能陷入题材重复利用的误区
B. 国产电影应该深入挖掘民族文化的宝藏
C. 国产电影需努力摆脱不健康的生态
D. 国产电影将迎来一个百花齐放的春天

四、材料分析能力测试（每小题 5 分，共 50 分）

材料一：根据下面材料完成 36~40 题。

2022 年我国某科技公司在新疆建立了研发基地，研制适用于大规模棉花生产的无人机。为推广产品，该公司先组建专业服务团队为农民提供无人机服务，后以极低的价格出租无人机，最后才销售无人机，同时对农民进行技术培训。无人机的使用，大幅度减少了人工成本，改变了新疆传统农业生产方式。

36. 该科技公司在新疆建立研发基地，研制（ ）。

- A. 棉花 B. 无人机 C. 原材料 D. 服务方式

37. 新疆吸引该科技公司入驻的主要因素是（ ）。

- A. 交通 B. 政策 C. 技术 D. 市场

38. 该科技公司提供无人机服务、租赁，同时对棉农进行培训，直接目的是（ ）。

- A. 增强竞争力
- B. 培育市场
- C. 提升服务水平
- D. 提高效益

39. 无人机的使用主要可以帮助棉农提高棉花的（ ）。

- A. 产量
- B. 质量
- C. 利润
- D. 价格

40. 当市场上无人机的供应量超过需求量的时候，按照市场经济规律，价格会（ ）。

- A. 升高
- B. 降低
- C. 不变
- D. 无法判断

材料二：根据下面的曲线图回答 41~45 题：

某地区牛奶销售量变化图（单位：万公斤）



41. 销售量增长最多的月份是（ ）月。

- A. 2
- B. 6
- C. 7
- D. 9

42. 销售量最高与最低的差是（ ）万公斤。

- A. 200
- B. 300
- C. 400
- D. 450

43. 销售量在增大最多的月份里增长了（ ）万公斤。

- A. 50
- B. 100
- C. 150
- D. 200

44. 销售量增加的月份数与销售量减少的月份数之比为（ ）。

- A. 1:1
- B. 1:2
- C. 2:1
- D. 1:6

45. 最低销售量为（ ）万公斤？

- A. 200 B. 250 C. 300 D. 350

五、表达能力测试（每小题 45 分，共 90 分）

材料一：

目前在一些学生中存在着“吃的看广告，穿的看牌子，玩的看流行”的现象，学生之间相互攀比，手机、平板电脑等“现代化装备”不断升级。

请结合所学知识，谈谈你的认识。要求观点明确，分析恰当，条理清晰，字数不少于 200 字。

材料二：

“只有奋斗的人生才称得上幸福的人生”，没有心无旁骛的追逐，没有一以贯之的奋斗，再美好的目标，再美丽的蓝图，都无法变成可触可感的现实，更不可能千千万万的你我拥有满满的成就感和幸福感。

请你结合所学知识，谈谈新时代青年应如何实现自己的人生价值。要求观点明确，分析恰当，条理清晰，字数不少于 200 字。